

😊 Bonjour les élèves, cette semaine nous allons tout d'abord terminer le chapitre HIS 5, puis poursuivre avec le chapitre suivant.

😊 Pour la fin du chapitre HIS 5, nous allons terminer de travailler sur le cas de l'Algérie. Maintenant que vous savez comment s'est passé le processus de décolonisation de l'Algérie, voyons ce qui s'est passé pour ce pays une fois son indépendance acquise. Comme vous allez le constater, tout n'a pas été toujours facile.

😞 Inscris le titre et la problématique dans ton cahier

### 3 ) La difficile construction des nouveaux Etats issus de la décolonisation : l'exemple de l'Algérie

A quels problèmes l'Algérie indépendante est-elle confrontée et comment parvient-elle à s'affirmer sur la scène internationale de cette époque ?

#### 3-1 ) un pays neuf qui rencontre des difficultés politiques

#### **4 Un État autoritaire**

*Les dirigeants de l'Algérie indépendante lors d'une parade de l'armée en 1963.*

La nouvelle République algérienne est gouvernée par les responsables du FLN et de l'ALN qui ont combattu pour l'indépendance de l'Algérie. Le FLN est proclamé parti unique. D'abord Premier ministre puis président de la République, Ahmed Ben Bella est renversé en 1965 par le coup d'État de Houari Boumédiène, soutenu par l'armée, qui devient le nouveau président.



😊 Lis les informations données par le document


😊 Nous pouvons donc retenir que : ([bilan à recopier dans ton cahier](#))

-Instabilité politique : coup d'Etat par les militaires en 1965

-Un seul parti autorisé: le FLN décide de tout (en politique et en économie)

L'Algérie n'est donc pas une démocratie mais un régime autoritaire, contrôlé par le FLN

## Les présidents algériens depuis l'indépendance



🤔 Sur ce document, on peut constater que tous les présidents algériens ont été soit renversés par l'armée, soit assassinés, soit sont restés très très longtemps au pouvoir. Récemment, le président Bouteflika a renoncé à se présenter une cinquième fois face à la pression de la rue .....actuellement l'Algérie est en pleine crise politique et les manifestations continuent pour la mise en place d'une véritable démocratie .

### [3-2 \) un pays neuf qui cherche à s'affirmer sur la scène internationale](#)

Conférence des Non-Alignés en 1973 à Alger. Au premier plan : Fidel Castro. Derrière en haut : le président algérien Houari Boumediène. (Crédit : [www.namalgeria2014.dz](http://www.namalgeria2014.dz))



🤔 l'Algérie affirme son influence sur le plan international en organisant avec succès le sommet des non-alignés de 1973 auquel les plus grands dirigeants du Tiers-Monde de l'époque assistent

3-3 ) un pays du Tiers monde confronté à de grandes difficultés sociales et économiques malgré des ressources importantes .

🤔 Sur les documents on peut constater que la population algérienne a augmenté de façon très rapide après 1962 , et que la mortalité a reculé ( on le comprend car l'espérance de vie progresse ) Le population du pays est très jeune et le développement économique , malgré des richesses ( pétrole ) n'est pas suffisant pour éduquer et fournir du travail à tous ces jeunes. L'immigration devient pour beaucoup la seule solution.

### 6 Indicateurs de développement

	1962	1977
Population (en millions)	11	17
Population rurale (en %)	80	58
Espérance de vie à la naissance	48 ans	58 ans
Analphabétisme (en %)	85 (dont femmes: 95)	58 (dont femmes: 74)
Scolarisation (en % d'enfants scolarisés)	30 (dont filles: 22)	70 (dont filles: 60)



### Bilan général à recopier dans ton cahier

L'Algérie devient indépendante en 1962 suite à une guerre d'indépendance qui a duré plus de 8 ans.

Tout d'abord l'Algérie affirme son influence sur le plan international en organisant avec succès le sommet des non-alignés de 1973 auquel les plus grands dirigeants du Tiers-Monde de l'époque assistent. Elle fait partie aussi de l'OPEP ( Organisation des Pays Producteurs de Pétrole ) qui joue un rôle international fondamental.

Mais c'est aussi un pays au sous-sol riche (pétrole et gaz) qui aurait pu devenir un pays très développé. Mais les problèmes politiques, la mise en place d'un régime autoritaire et l'accaparement des richesses du pétrole et du gaz par une minorité au pouvoir n'ont pas permis le bon développement de l'Algérie: beaucoup de jeunes Algériens sont aujourd'hui sans emplois et émigrent du pays.

L'Algérie est un Etat qui n'est pas encore devenu une démocratie et qui a d'importants problèmes sociaux à régler.

🎉 Bravo, nous avons terminé le chapitre HIS 5 . Si tu penses en avoir besoin, n'hésite pas à regarder de nouveau la vidéo du cours et à repasser le quizz d'entraînement



Poursuivons maintenant avec le chapitre suivant HIS 6 /GEO 5 , qui sera à la fois de l'histoire de la géographie et de l'EMC

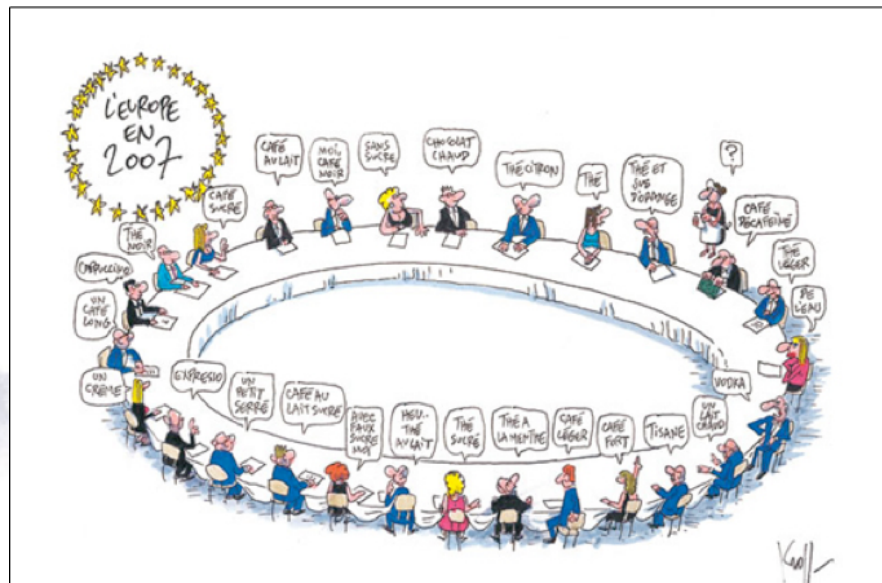


😊 A partir de cette image , je te laisse deviner quel sera le sujet de ce nouveau chapitre .....  
Tu as deviné ? Et oui bravo, il s'agit bien de l'Union européenne

😬 Tu peux inscrire le titre du chapitre en haut d'une nouvelle page

## HIS 6/GEO 5 : l'Union européenne , un nouveau territoire de référence

😊 Observons pour commencer deux caricatures sur l'Union Européenne réalisées par Pierre Kroll en 2007



🤔 Quelles sont les deux choses que Pierre Kroll veut nous faire comprendre sur l'UE d'après toi ?

🎉 Tu as trouvé ? Oui bravo c'est tout à fait cela

**1 - L'UE a plus de 50 ans et compte aujourd'hui beaucoup plus de pays qu'à l'origine**

**2 - C'est une union d'Etats ayant des choses en commun , mais aussi de fortes différences .**

🤔 Cette semaine, nous allons tout d'abord nous intéresser au premier point : l'UE c'est un regroupement de pays ancien. Nous allons donc commencer par l'histoire de l'UE

### 1 - L'UE, un territoire qui s'est construit dans le temps

Quand, comment, pourquoi l'Union européenne s'est-elle construite ?

😓 Tu peux maintenant faire l'activité 1 « la construction de l'UE »

🎉 Tu as terminé ? Bravo, tu peux consulter la fiche bilan ( bilan la construction européenne ) l'imprimer et la coller ou alors recopier les informations

🤔 Complète maintenant la fiche « histoire et géographie de la construction européenne » en t'aidant des éléments trouvés dans les différents documents et de la double page de ton manuel p°129/130

😊 Si tu ne peux pas imprimer la fiche pour la compléter, fais à la place les questions proposées p° 129

🎉 Tu as terminé, bravo, consulte le corrigé ( fichier « l'union européenne , un territoire en construction dans le temps » ) et complète ce qui te manque . Tu peux aussi imprimer et coller le corrigé .

🤔 Pour terminer , tu peux regarder la vidéo du cours qui va récapituler l'essentiel

🎉 Puis teste ta connaissance sur la construction européenne en réalisant ces quizz


<https://www.ouest-france.fr/leditiondusoir/data/683/reader/reader.html?t=1455729565228#!preferred/1/package/683/pub/684/page/5>

<https://www.letelegramme.fr/dossiers/bouquets-standards/jouez-avec-l-union-europeenne/histoire-que-savez-vous-de-l-union-europeenne-quiz-10-05-2019-12277311.php>

 Pour tester ta connaissance de la géographie de l'UE , tu peux aussi faire ce quizz

<https://www.jeux-geographiques.com/jeux-en-ligne-Pays-de-l-Union-Europeenne-pageid260.html>

 Enfin, lis la double page de ton manuel p° 132/133

 Pour terminer , recopie dans ton cahier le schéma « je retiens autrement »

**Voilà c'est fini pour cette semaine, nous poursuivrons la semaine prochaine ce chapitre .**

**Pour faire le point sur le travail de la semaine, je te propose une Visio vendredi en toute fin d'après-midi. Je communiquerai à ce sujet sur Whats app cette semaine.**